

NTSE-I
2015-16

प्रश्न पत्र क्रमांक

102863

बौद्धिक योग्यता एवम् भाषा (हिन्दी अथवा अंग्रेजी) बोध परीक्षा
Mental Ability and Language (Hindi or English) Comprehension Test

OMR उत्तर पत्रक क्रमांक

OMR Answer Sheet No.


परीक्षार्थी का अनुक्रमांक

ROLL NO. OF CANDIDATE

--	--	--	--	--	--	--	--	--	--	--	--

केन्द्र क्र. 0401

परीक्षा केन्द्र की सील


निरीक्षक के हस्ताक्षर
व दिनांक

बौद्धिक योग्यता एवम् भाषा
(हिन्दी अथवा अंग्रेजी) बोध परीक्षा

समय: 90 मिनट

पूर्णांक: 100

परीक्षार्थियों को निर्देश

- समस्त अंक अंग्रेजी में ही लिखें।
- OMR उत्तर पत्रक पर छपा अनुक्रमांक (Roll No.) अपना प्रवेश पत्र में लिखा हुआ अनुक्रमांक (Roll No.) से मिलान करें।
- यदि OMR उत्तर पर आपका अनुक्रमांक छपा नहीं है, तो प्रवेश पत्र में दिए गए अनुक्रमांक के अनुसार लिखें। एक चौखट में एक ही अंक लिखा जावे।
- प्रश्न पत्र पर अन्य कुछ न लिखें। प्रश्न पत्र उत्तर भी कदापि अंकित न करें।
- इस प्रश्न-पत्र में 100 प्रश्न हैं। सभी प्रश्न अनिवार्य हैं। प्रत्येक प्रश्न का एक अंक है।
- इस प्रश्न पत्र के प्रश्न 01 से 50 तक के प्रश्न बौद्धिक योग्यता परीक्षण के लिए हैं तथा प्रश्न क्रमांक 51 से 100 तक के प्रश्न भाषा बोध परीक्षा के लिए हैं।
- भाषा बोध परीक्षा हेतु हिन्दी एवं अंग्रेजी के खण्ड हैं जिनमें से केवल एक भाषा के प्रश्नों को ही हल करना है।
- OMR उत्तर-पत्रक में प्रत्येक प्रश्न के क्रमांक अंकित हैं। उनके सामने उनके सम्भावित उत्तरों के क्रमांक A, B, C, D, भी अंकित हैं। आप प्रत्येक प्रश्न के सही उत्तर के क्रमांक वाले घेरा को पेन से काला करें।
उदाहरण (A) (B) (C) (D) (C सही उत्तर है।)
- उत्तर अलग से दिये गये OMR उत्तर-पत्रक पर ही अंकित करें
- प्रश्न पत्र के अंत में कोरे पृष्ठ रफ-कार्य हेतु, इन्हें प्रश्न पत्र से फाड़े नहीं।
- परीक्षा के उपरान्त निरीक्षक को OMR उत्तर पत्रक देना अनिवार्य है।
- परीक्षार्थी अपने साथ प्रश्न-पत्र ले जा सकते हैं।

Mental Ability and Language
(Hindi or English) Comprehension Test
Time : 90 minutes Max. Mark : 100

INSTRUCTIONS TO CANDIDATES

- Write all Nos. in English only.
- Verify the roll number Printed on OMR Sheet with the roll number given in your admission card.
- If your roll number is not Printed on OMR answer sheet then write roll number on blank space provided on the sheet. Write one digit on one block.
- Do not write anything else on the question paper, in any case do not mark answer on the question paper.
- There are 100 questions in this paper. All the questions are compulsory. Each question carries one mark.
- In this question paper, question number 1 to 50 are to examine mental ability and question number 51 to 100 are Test language comprehension.
- Language comprehension test consist of two sections, hindi and english, From these two sections only question from one language has to be attempted.
- Serial Nos. of all the question are written on the Answer sheet. In front of these the Serial Nos. A, B, C, D probable answer are given You have to select the correct answer and blacker in the circle around it.
Example (A) (B) (C) (D) (C is correct Ans.)
- Mark answer on separate OMR Answer sheet given.
- Blank sheets are attached at the end at question paper for rough work, please don't tear these off.
- Handing over of the Answer Sheet, to the invigilator, is compulsory after the examination.
- Candidate can carry question paper with themselves.

निर्देश : (प्रश्न क्र. 1 से 5 के लिए)
नीचे दिए गए प्रश्नों में एक (संख्या/अक्षर) श्रेणी दी है, जिसमें एक विलुप्त पद को प्रश्न वाचक चिन्ह (?) से दर्शाया गया है। दिए गए विकल्पों में से सर्वाधिक उपयुक्त विकल्प का चयन कीजिए-

Direction : for question no. 1 to 5
There is a (number/letter) series in the following questions with an item missing, marked with the question mark (?). Find the best appropriate option from the given options.

प्रश्न 1. 0, 6, 24, 60, 120, 210, (?)
(A) 290 (B) 336
(C) 504 (D) 240

Qn 1. 0, 6, 24, 60, 120, 210, (?)
(A) 290 (B) 336
(C) 504 (D) 240

प्रश्न 2. 3, 15, (?), 63, 99, 143
(A) 35 (B) 45
(C) 27 (D) 56

Qn 2. 3, 15, (?), 63, 99, 143
(A) 35 (B) 45
(C) 27 (D) 56

प्रश्न 3. BZA, DYC, FXE, (?), JVI
(A) HUG (B) UHG
(C) WHG (D) HWG

Qn 3. BZA, DYC, FXE, (?), JVI
(A) HUG (B) UHG
(C) WHG (D) HWG

प्रश्न 4. QIF, S2E, U6D, W21C, (?)
(A) Y44B (B) Y66B
(C) Y88B (D) Z88B

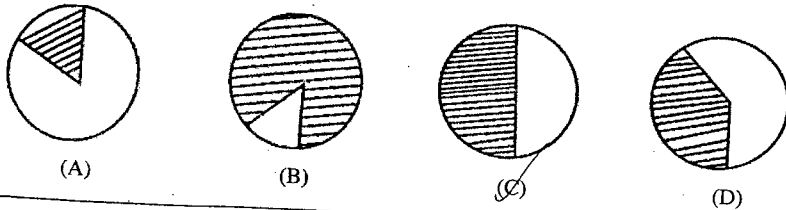
Qn 4. QIF, S2E, U6D, W21C, (?)
(A) Y44B (B) Y66B
(C) Y88B (D) Z88B

प्रश्न 5. N5V, K7T, (?), E14P, B19N
(A) H9R (B) H10R
(C) H10R (D) H10S

Qn 5. N5V, K7T, (?), E14P, B19N
(A) H9R (B) H10R
(C) H10R (D) H10S

प्रश्न 6. यदि A मशीन का 20% उत्पादन खराब है और बचे हिस्से का 37.5% निम्न गुणवत्ता का है तो नीचे दिए गए चित्रों में कौन सा चित्र अच्छी गुणवत्ता के उत्पादन को दर्शाता है।

Qn 6. If output of machine A is 20% damaged and out of the rest another 37.5% falls in lower quality grade. Which of the following figure will depict the output of the good quality



प्रश्न 7. A और B की औसत आयु 20 वर्ष है। यदि A को C से प्रतिस्थापित किया जाये तो औसत आयु 19 वर्ष होती है और यदि B को C से प्रतिस्थापित किया जाये तो औसत आयु 21 वर्ष होती है। A, B और C की आयु क्या है?
(A) 18, 20, 22 (B) 18, 22, 20
(C) 22, 20, 18 (D) 22, 18, 20

Qn 7. The average age of A and B is 20 years. If A is replaced by C, the average age would be 19 and if B is replaced by C, the average age would be 21. What are the ages of A, B and C?
(A) 18, 20, 22 (B) 18, 22, 20
(C) 22, 20, 18 (D) 22, 18, 20

प्रश्न 8. यदि LEAP को PEAL लिखा जाता है तो 8326 को किस प्रकार लिखा जाएगा?
(A) 2368 (B) 6283
(C) 6328 (D) 2683

Qn 8. If LEAP is written as PEAL then how is 8326 written?
(A) 2368 (B) 6283
(C) 6328 (D) 2683

प्रश्न 9. दीर्घवृत्त से वक्र उसी प्रकार सम्बन्धित है जैसा कि वर्ग सम्बन्धित है-
(A) बिन्दु से (B) वृत्त से
(C) बहुभुज से (D) गोलाकार से

Qn 9. ELLIPSE is related to CURVE in the same way as SQUARE is related to-
(A) POINT (B) CIRCLE
(C) POLYGON (D) ROUND

प्रश्न 10. कौन सा अक्षर-संख्या युग्म प्रश्नवाचक चिन्ह के स्थान पर आयेगा?
PO / 31 : NM / 27 :: IH / 17 : ?
(A) GM / 16 (B) GT / 14
(C) GV / 16 (D) GF / 13

Qn 10. Which letter-number combination will replace the question mark (?)
PO / 31 : NM / 27 :: IH / 17 : ?
(A) GM / 16 (B) GT / 14
(C) GV / 16 (D) GF / 13

प्रश्न 11. नीचे दिए गए प्रश्न में पैटर्न की खोज कर दिए गए विकल्पों में से सर्वाधिक उपयुक्त विकल्प को चुनें-
A D C F
C F E H
E H G J
O R ? ?
(A) LK (B) MN
(C) ST (D) QT

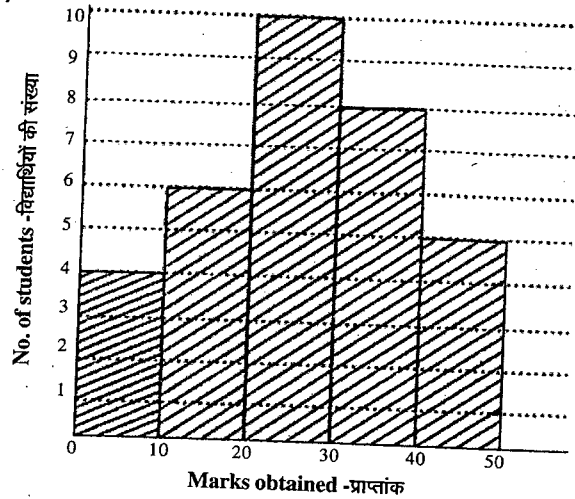
Qn 11. Discover the pattern in the following question and select the best appropriate option from the given choices-
A D C F
C F E H
E H G J
O R ? ?
(A) LK (B) MN
(C) ST (D) QT

निर्देश : (प्रश्न 12 से 15 के लिए)

नीचे दिये गये बार ग्राफ का ध्यानपूर्वक अध्ययन करें एवं निम्न प्रश्नों का उत्तर दीजिए-

Direction (for question no 12 to 15)

Study the following bar graph carefully and answer the questions given below-



प्रश्न 12. आंकड़ों में सम्मिलित कुल विद्यार्थियों की संख्या-

- (A) 10 (B) 32
(C) 33 (D) 43

Qn 12. Total number of students involved in data-

- (A) 10 (B) 32
 (C) 33 (D) 43

प्रश्न 13. सर्वाधिक विद्यार्थी किस अंतराल में हैं-

- (A) 10 - 20 (B) 20 - 30
(C) 30 - 40 (D) 40 - 50

Qn 13. Maximum number of students lie in which interval-

- (A) 10 - 20 (B) 20 - 30
(C) 30 - 40 (D) 40 - 50

प्रश्न 14. सबसे कम विद्यार्थी किस अंतराल में है-

- (A) 0 - 20 (B) 10 - 20
(C) 30 - 40 (D) 40 - 50

Qn 14. Minimum number of students lie in which interval-

- (A) 0 - 20 (B) 10 - 20
(C) 30 - 40 (D) 40 - 50

प्रश्न 15. प्रथम एवं अंतिम अंतराल के अंक प्राप्त करने वाले विद्यार्थियों की संख्या का अनुपात-

- (A) 4 : 6 (B) 4 : 5
(C) 5 : 6 (D) 3 : 4

Qn 15. Ratio of the number of students, who obtained marks in first and last interval-

- (A) 4 : 6 (B) 4 : 5
(C) 5 : 6 (D) 3 : 4

निर्देश : (प्रश्न क्रमांक 16 से 18 के लिए)

सात गाँव A, B, C, D, E, F एवं G इस प्रकार स्थित हैं-

- E, B से 2 कि.मी. पश्चिम में है।
- F, A से 2 कि.मी. उत्तर में है।
- C, A से 1 कि.मी. पश्चिम में है।
- D, G से 2 कि.मी. दक्षिण में है।
- G, C से 2 कि.मी. पूर्व में है।
- D, B और E के ठीक मध्य में है।

Direction (for question no 16 to 18)

Seven villages A, B, C, D, E, F and G are situated as following

- E is 2 km to the west of B
- F is 2 km to the north of A
- C is 1 km to the west of A
- D is 2 km to the south of G
- G is 2 km to the east of C
- D is exactly in the middle of B and E

प्रश्न 16. कौन से दो गाँव एक दूसरे से अधिक दूरी पर हैं?

- (A) F - E (B) G - E
(C) D - C (D) F - B

Qu 16. Which two villages are farther from one another?

- (A) F - E (B) G - E
(C) D - C (D) F - B

प्रश्न 17. E और F के बीच की दूरी क्या है?

- (A) 5 km (B) $\sqrt{26}$ km
(C) 4 km (D) $\sqrt{20}$ km

Qu 17. How far is E and F?

- (A) 5 km (B) $\sqrt{26}$ km
 (C) 4 km (D) $\sqrt{20}$ km

प्रश्न 18. A किन दो गाँवों के मध्य में है?

- (A) E - G (B) E - C
(C) G - C (D) F - G

Qu 18. A is in the middle of which two villages-

- (A) E - G (B) E - C
 (C) G - C (D) F - G

प्रश्न 19. 2880 को किस सबसे छोटी संख्या से भाग दिया जाये ताकि हमें पूर्ण वर्ग संख्या प्राप्त हो?

- (A) 2 (B) 3
(C) 4 (D) 5

Qu 19. 2880 is divided by which smallest number so that we get a perfect square number ?

- (A) 2 (B) 3
(C) 4 (D) 5

प्रश्न 20. निम्न का मान ज्ञात कीजिए-

$$(40 \times 40 \times 40 - 31 \times 31 \times 31) + (40 \times 40 + 40 \times 31 + 31 \times 31)$$

- (A) 34209 (B) 71
(C) 9 (D) 36410

Qu 20. Find the value of the following-

- (A) 34209 (B) 71
 (C) 9 (D) 36410

प्रश्न 21. दिये गए विकल्पों में से ऐसे दो चिन्हों का चयन कीजिए जिन्हें परस्पर बदलने पर निम्न समीकरण सही बन जाता है।

$$36 + 12 \times 6 + 9 - 6 = 38$$

- (A) -, x (B) +, x
(C) -, + (D) +, +

Qu 21. From the given alternatives select two such signs, when these are mutually interchanged, the following equation becomes correct.

$$36 + 12 \times 6 + 9 - 6 = 38$$

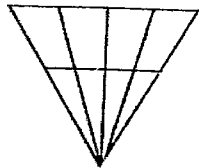
- , x (B) +, x
 -, + (D) +, +

प्रश्न 22. नीचे दिये गए श्रेणियों में ? के स्थान पर सही शब्द समूह को ज्ञात कीजिए-

FNHLJ, WOUQS, BNEKH, ?, DTHPL

- (A) NBKEH (B) NVPTR
(C) NFLHJ (D) NDRZV

प्रश्न 23. नीचे दिये गए चित्र में कितने त्रिभुज हैं-



- (A) 20 (B) 18
(C) 22 (D) 17

निर्देश: (प्रश्न क्रमांक 24 से 27 के लिए)

दिये गये अक्षर/संख्या का सही जल प्रतिबिम्ब विकल्पों में से चुनें।

प्रश्न 24. ANSWER

- (A) VIZWEX (B) KIWZEV
(C) IAWZEV (D) EAVKMI2

प्रश्न 25. REFLECTION

- (A) EREFLECTION (B) KEFLECTION
(C) EREFLECTION (D) REFLECTION

प्रश्न 26. T3P2Y5

- (A) 2Y2P3T (B) 3P2Y2
(C) 3P2Y2 (D) T3P2T

प्रश्न 27. RJ6MA7

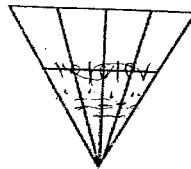
- (A) R19MA7 (B) R19MA7
(C) R19MA7 (D) R19MA7

Qu 22. Find the correct group of letters in place of ? in the following series.

FNHLJ, WOUQS, BNEKH, ?, DTHPL

- (A) NBKEH (B) NVPTR
(C) NFLHJ (D) NDRZV

Qu 23. How many triangles are there in the following figure-



- (A) 20 (B) 18
(C) 22 (D) 17

Direction : (for question no. 24 to 27)

Chose the correct water image of the given words/numbers from amongst the alternative.

Qu 24. ANSWER

- (A) VIZWEX (B) KIWZEV
(C) IAWZEV (D) EAVKMI2

Qu 25. REFLECTION

- (A) EREFLECTION (B) KEFLECTION
(C) EREFLECTION (D) REFLECTION

Qu 26. T3P2Y5

- (A) 2Y2P3T (B) 3P2Y2
(C) 3P2Y2 (D) T3P2T

Qu 27. RJ6MA7

- (A) R19MA7 (B) R19MA7
(C) R19MA7 (D) R19MA7

निर्देश: (प्रश्न क्र. 28 से 29 के लिए)

7, 8, 9 और 10 नम्बर वाले टी-शर्ट पहने छात्रों के बारे में कुछ जानकारियाँ निम्नानुसार हैं। दी गयी जानकारियों को पढ़कर नीचे दिए गए प्रश्नों का उत्तर दीजिए।

- 7 और 9 नम्बर वाले खिलाड़ी फुटबाल के साथ-साथ क्रिकेट भी खेलते हैं।
- 8 नम्बर वाला मोटा खिलाड़ी खो-खो एवं फुटबाल के सिवाय सभी खेलों में सहभागिता करता है।
- 9 नम्बर वाला खिलाड़ी बहुत छोटा है। वह कबड्डी में निपुण है। 10 नम्बर वाला खिलाड़ी बहुत दुबला है। वह फुटबाल के अतिरिक्त सभी खेलों में सहभागिता करता है।
- 7 नम्बर वाला खिलाड़ी बहुत ऊँचा है।

प्रश्न 28. किस खेल को एक और केवल एक खिलाड़ी खेल सकता है-

- (A) कबड्डी (B) खो-खो
(C) क्रिकेट (D) फुटबाल

प्रश्न 29. उस खेल का नाम बताइए जिसे दुबला खिलाड़ी खेलता है परन्तु मोटा खिलाड़ी नहीं खेल सकता-

- (A) क्रिकेट (B) फुटबाल
(C) खो-खो (D) कबड्डी

प्रश्न 30. एक निश्चित परीक्षा में 77% अभ्यर्थी अंग्रेजी में उत्तीर्ण हुए तथा 34% गणित में अनुत्तीर्ण हुए। यदि 13% अभ्यर्थी दोनों विषयों में अनुत्तीर्ण होते हैं तथा 784 विद्यार्थी दोनों विषयों में उत्तीर्ण होते हैं तो परीक्षा में सम्मिलित होने वाले कुल अभ्यर्थियों की संख्या थी-

- (A) 1200 (B) 1400
(C) 1600 (D) 1800

Direction : (for question no. 28 to 29)

The information about the students wearing T-shirts having number 7, 8, 9 and 10 is given below. Read the given information and answer following questions.

- The player having number 7 and 9 play football as well as cricket.
- The fat player having number 8 participates in all games except kho-kho and football.
- The player carrying number 9 is very short. He is expert in kabaddi. The player having number 10 is very slim. He participates in all games except the football.
- The player having number 7 is very tall.

Qu 28. Which game can be played by one and only one player-

- (A) Kabaddi (B) Kho-Kho
(C) Cricket (D) Football

Qu 29. Name the game, which is played by the slim player but can not be played by the fat player-

- (A) Cricket (B) Football
(C) Kho-Kho (D) Kabaddi

Qu 30. In a certain examination, 77% candidates passed in English and 34% failed in Mathematics. If 13% failed in both the subjects and 784 candidates passed in both the subjects then the total number of candidates that appeared in examination-

- (A) 1200 (B) 1400
(C) 1600 (D) 1800

निर्देश : (प्रश्न क्र. 31 से 35 के लिए)
नीचे दी गयी जानकारियों को पढ़िए तथा प्रश्नों का उत्तर दीजिए—
सात मैनेजर श्री शर्मा, श्री मिश्रा, श्री सिंह, श्री कुलकर्णी, श्री राव, श्री जोशी एवं श्री नायर को अकेले अथवा युग्म में विभिन्न चार स्थानों सूरत, चण्डीगढ़, दिल्ली एवं लखनऊ में साक्षात्कारों को सम्पन्न करना है। इनमें से केवल एक रेल द्वारा यात्रा करना चाहते हैं दो कार से तथा शेष हवाई यात्रा करना पसन्द करते हैं।

- (1) श्री शर्मा लखनऊ जा रहे हैं परन्तु न ही कार से और ना हवाई जहाज से।
- (2) श्री मिश्रा कार से यात्रा करना पसन्द करते हैं।
- (3) न श्री जोशी न ही श्री नायर दिल्ली जा रहे हैं।
- (4) केवल वे जो सूरत जा रहे हैं सड़क मार्ग से यात्रा करते हैं।
- (5) श्री कुलकर्णी अपने मित्र श्री मिश्रा को मदद करेंगे।
- (6) दो मैनेजर जो दिल्ली जाते हैं हवाई मार्ग से यात्रा करेंगे।

प्रश्न 31. श्री कुलकर्णी किस स्थान पर साक्षात्कार सम्पन्न करेंगे?

- (A) सूरत (B) लखनऊ
(C) चण्डीगढ़ (D) इनमें से कोई नहीं

प्रश्न 32. दिल्ली कौन जा रहे हैं?

- (A) श्री मिश्रा-श्री कुलकर्णी
(B) श्री राव -श्री सिंह
(C) श्री कुलकर्णी-श्री जोशी
(D) अपर्याप्त जानकारी

प्रश्न 33. निम्न में से क्या सत्य है?

- (A) श्री कुलकर्णी हवाई यात्रा करते हैं
(B) श्री नायर, श्री राव को मदद करेंगे
(C) श्री शर्मा अकेले साक्षात्कार सम्पन्न करते हैं
(D) श्री जोशी चण्डीगढ़ जाते हैं

Direction : (for question no. 31 to 35)

Read the following information and answer the questions.

Seven managers Mr. Sharma, Mr. Mishra, Mr. Singh, Mr. Kulkarni, Mr. Rao, Mr. Joshi and Mr. Nair are to conduct interviews simultaneously either alone or in pairs at four different locations-Surat, Chandigarh, Delhi and Lkhnow. Only one wants to travel by rail, two prefer travelling by car and the rest travel by air.

- (1) Mr. Sharma is going to Lkhnow but neither by car nor by air.
- (2) Mr. Mishra prefer to travel by car.
- (3) Neither Mr. Joshi nor Mr. Nair is going to Delhi.
- (4) Only those going to surat travel by road.
- (5) Mr. Kulkarni will assist his friend Mr Mishra.
- (6) The two managers who go to Delhi will travel by air.

Qu 31. Where will Mr. Kulkarni conduct the interviews.

- (A) Surat (B) Lkhnow
(C) Chandigarh (D) None of these

Qu 32. Who goes to Delhi?

- (A) Mr. Mishra - Mr. Kulkarni
(B) Mr. Rao - Mr. Singh
(C) Mr. Kulkarni - Mr. Joshi
(D) Data inadequate

Qu 33. Which of the following is true-

- (A) Mr Kulkarni travels by air
(B) Mr. Nair will assist Mr. Rao
(C) Mr. Sharma conducts interviews alone
(D) Mr. Joshi goes to Chandigarh

प्रश्न 34. चण्डीगढ़ में साक्षात्कार कौन सम्पन्न करेंगे।

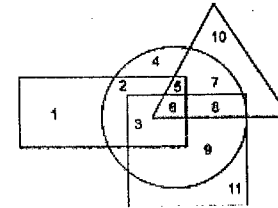
- (A) श्री नायर (B) श्री सिंह
(C) श्री राव (D) इनमें से कोई नहीं

प्रश्न 35. निम्न में से कौन सा युग्म यात्रा करने के तरीके में अन्य तीन से भिन्न है।

- (A) श्री शर्मा - श्री मिश्रा
(B) श्री राव - श्री मिश्रा
(C) श्री नायर - श्री राव
(D) श्री कुलकर्णी - श्री जोशी

निर्देश : (प्रश्न क्रमांक 36 से 40 के लिए)

नीचे दी गई आकृति में वृत्त गेहूँ को, त्रिभुज गन्ना को, आयत चावल को तथा वर्ग बाजरा उत्पन्न करने वाले स्थानों को दर्शाता है। आकृति का ध्यानपूर्वक अध्ययन करें तथा नीचे दिये गये प्रश्नों के उत्तर दें।



प्रश्न 36. किस स्थान में चारों प्रकार के फसल की खेती होती है?

- (A) 3 (B) 5
(C) 6 (D) 3

प्रश्न 37. किस स्थान में बाजरा, गन्ना और गेहूँ होते हैं?

- (A) 6 (B) 9
(C) 5 (D) 8

प्रश्न 38. कौन सा स्थान केवल गन्ना और गेहूँ उत्पन्न करता है?

- (A) 7 (B) 8
(C) 6 (D) 5

Qu 34. Who will conduct interviews at Chandigarh-

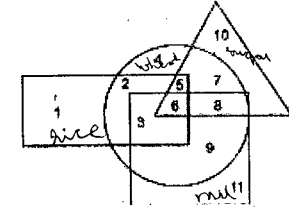
- (A) Mr. Nair (B) Mr. Singh
(C) Mr. Rao (D) None of these

Qu 35. Which of the following pair is different from the other three with regard to mode of travel?

- (A) Mr. Sharma - Mr. Mishra
(B) Mr. Rao - Mr. Mishra
(C) Mr. Nair - Mr. Rao
(D) Mr. Kulkarni - Mr. Joshi

Direction (for question no 36 to 40)

In the diagram below circle represents wheat, triangle represents sugarcane, rectangle represents rice and square represents millet producing areas. Study the diagram carefully and answer the questions given below.



Qu 36. Which area has the cultivation of all the four commodities mentioned?

- (A) 3 (B) 5
(C) 6 (D) 3

Qu 37. Which area gives millet, sugarcane and wheat?

- (A) 6 (B) 9
(C) 5 (D) 8

Qu 38. Which area grows sugarcane and wheat only?

- (A) 7 (B) 8
(C) 6 (D) 5

प्रश्न 39. कौन सा स्थान केवल गेहूँ और चावल उत्पन्न करता है?

- (A) 6 (B) 8
(C) 2 (D) 7

प्रश्न 40. कौन सा स्थान केवल गेहूँ उत्पन्न करता है?

- (A) 2 (B) 3
(C) 4 (D) 5

निर्देश : (प्रश्न क्र. 41 से 45 के लिए)

- (i) P, Q, R, S, T एवं U एक बस में सफर कर रहे हैं।
(ii) इसमें 2 रिपोर्टर, 2 तकनीशियन एक फोटोग्राफर एवं एक लेखक है।
(iii) फोटोग्राफर P ने S से विवाह किया जो कि रिपोर्टर है।
(iv) महिला लेखक ने Q से विवाह किया है जो कि वही व्यवसाय करता है जो U का है।
(v) P, R, Q, S, विवाहितों के 2 जोड़े हैं। समूह में कोई भी समान व्यवसाय वाला नहीं है।
(vi) U, R का भाई है।

प्रश्न 41. निम्न में से कौन सी तकनीशियनों की जोड़ी है?

- (A) RS (B) SU
(C) PT (D) QU

प्रश्न 42. निम्न में से कौन सी रिपोर्टरों की जोड़ी है?

- (A) PQ (B) RT
(C) ST (D) SU

प्रश्न 43. R, U से कैसे सम्बन्धित है?

- (A) भाई (B) बहन
(C) चाचा (D) नहीं कह सकते

प्रश्न 44. निम्न में से कौन सी जोड़ी पति पत्नी की है?

- (A) PQ (B) QR
(C) QS (D) PT

प्रश्न 45. निम्न में से कौन सी जोड़ी पतियों की है?

- (A) PQ (B) PR
(C) QS (D) कह नहीं सकते

Qu 39. Which area grows only wheat and rice?

- (A) 6 (B) 8
(C) 2 (D) 7

Qu 40. Which area grows wheat only?

- (A) 2 (B) 3
(C) 4 (D) 5

Direction (for question no 41 to 45)

- (i) P, Q, R, S, T and U are travelling in a bus
(ii) There are two reporters, two technicians one photographer and one writer in the group.
(iii) The photographer P is married to S, who is reporter.
(iv) Lady writer is married to Q who is of the same profession as that of U
(v) P, R, Q, S are two married couples and no body in the group has same profession.
(vi) U is brother of R

Qu 41. Which of the following of is a pair at technicians?

- (A) RS (B) SU
(C) PT (D) QU

Qu 42. Which of the following is pair of reporters?

- (A) PQ (B) RT
(C) ST (D) SU

Qu 43. How is R related to U ?

- (A) Brother (B) Sister
(C) Uncle (D) Can not say

Qu 44. Which of the following pair is a couple?

- (A) PQ (B) QR
(C) QS (D) PT

Qu 45. Which of the following is a pair of husbands?

- (A) PQ (B) PR
(C) QS (D) Can not say

निर्देश : (प्रश्न क्र. 46 से 48 के लिए)

चित्रों के दो समूह दिये गये हैं, एक समूह प्रश्न चित्र का है तथा दूसरा समूह उत्तर चित्र का है। प्रश्न समूह एक क्रम में व्यवस्थित हैं। उत्तर चित्रों में से एक चित्र चुनना है जो कि प्रश्न समूह के पाँचवें स्थान में रखा जा सके। उत्तर चित्रों में से सर्वाधिक उपयुक्त विकल्प का चयन कीजिए।


Direction (for question no 46 to 48)

Two sets of the figures are given. One set is of question-figures and another set is of answer figures. Question figures are arranged in a sequence. One figure from the answer figures is to be selected such that it can be placed in the 5th place of the question figures, find the best appropriate alternative from answer figures.

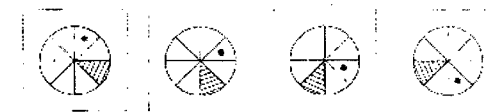
प्रश्न 46. प्रश्न चित्र / Qu 46. Question - Figures



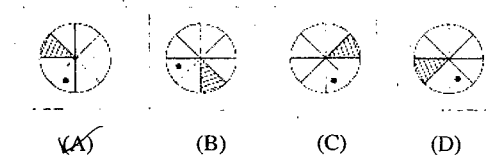
Answer-Figures / उत्तर चित्र



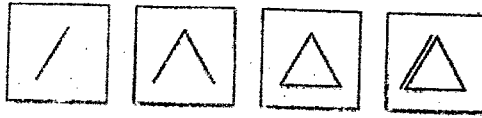
प्रश्न 47. प्रश्न चित्र / Qu 47. Question - Figures



Answer-Figures / उत्तर चित्र



प्रश्न 48. प्रश्न चित्र / Qu 48. Question - Figures



Answer - Figures / उत्तर चित्र



(A) (B) (C) (D)

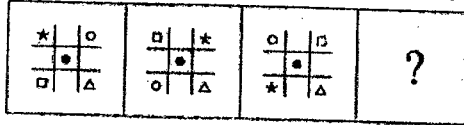
निर्देश : (प्रश्न क्र. 49 से 50 के लिए)

दिए गए उत्तर आकृतियों के विकल्प से कौन सा विकल्प प्रश्न आकृतियों की श्रृंखला को निरंतर बनाए रखेगा।

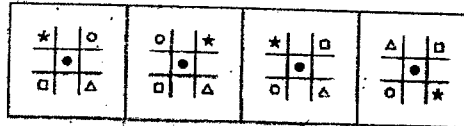
Direction : (for question no 49 to 50)

Which option from the answer figure will continue the series given in the question figures?

प्रश्न 49. प्रश्न चित्र / Qu 49. Question - Figures

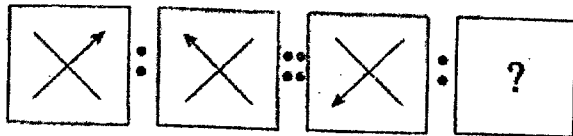


Answer-Figures / उत्तर चित्र

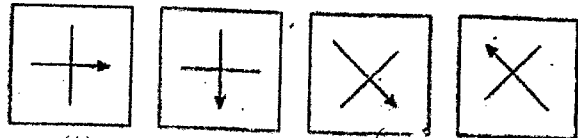


(A) (B) (C) (D)

प्रश्न 50. प्रश्न चित्र / Qu 50. Question - Figures



Answer-Figures / उत्तर चित्र



(A) (B) (C) (D)

भाषा बोध परीक्षण (हिन्दी)

- प्रश्न 51. 'नीरोग' की संधि होगी-
 (A) नी + रोग (B) नि: + रोग (C) निर् + रोग (D) नीर + ओग
- प्रश्न 52. 'झाड़ू' शब्द किस शब्द भेद से संबंधित है-
 (A) तत्सम (B) तद्भव (C) देशज (D) विदेशी
- प्रश्न 53. 'कलाई खुलना' मुहावरे के उपयुक्त अर्थ वाला विकल्प छाँटिए-
 (A) दरवाजा खुलना (B) मन की बात जाहिर होना (C) भेद खुलना (D) मोहभंग हो जाना
- प्रश्न 54. 'कनकलता' समस्तपद में समास भेद है-
 (A) तत्पुरुष (B) बहुव्रीहि (C) कर्मधारय (D) नञ् तत्पुरुष
- प्रश्न 55. 'पूरक है जीवन-तरु का फूल' में अलंकार है-
 (A) उपमा (B) अन्योक्ति (C) श्लेष (D) रूपक
- प्रश्न 56. "यहाँ पहले हमारा घर था किंतु अब मंदिर है।" रचना की दृष्टि से वाक्य का प्रकार है-
 (A) सरल वाक्य (B) मिश्र वाक्य (C) आश्रित वाक्य (D) संयुक्त वाक्य
- प्रश्न 57. निम्नलिखित वाक्यों में से शुद्ध वाक्य है-
 (A) वह छत पर से पतंग उड़ा रहा है। (B) वह छत में पतंग उड़ा रहा है
 (C) वह छत पर पतंग उड़ा रहा है। (D) वह छत से पतंग उड़ा रहा है।
- प्रश्न 58. किसी ने यह बात कही - वाक्य में 'किसी ने' सर्वनाम है-
 (A) निश्चयवाचक सर्वनाम (B) पुरुषवाचक सर्वनाम
 (C) सम्बन्ध वाचक सर्वनाम (D) अनिश्चय वाचक सर्वनाम
- प्रश्न 59. सामाजिक.....पर आधारित एकांकी 'रीढ़ की हड्डी' जगदीश चन्द्र माथुर की एक महत्वपूर्ण रचना है-
 (A) अव्यवस्था (B) पृष्ठभूमि (C) व्यंग्य (D) दौर
- प्रश्न 60. 'कप्तान' शब्द किस भाषा से संबंधित है-
 (A) पुर्तगाली (B) फारसी (C) अंग्रेजी (D) तुर्की
- प्रश्न 61. 'अमिय' का तद्भव शब्द है-
 (A) अमेल (B) अमृत (C) अमीन (D) अमन
- प्रश्न 62. शुद्ध वर्तनी वाले शब्द का चयन कीजिए-
 (A) संयासी (B) सन्यासी (C) संन्यासी (D) संनयासी
- प्रश्न 63. जिस पर आक्रमण हो-
 (A) आक्रामक (B) आक्रान्त (C) आक्रमण्य (D) अकर्मण्य

- प्रश्न 64. किस शब्द समूह के साथ 'इक' प्रत्यय का प्रयोग नहीं हो सकता—
 (A) सत्व, चरित्र, अलंकार (B) सत्व, अलंकार, यंत्र
 (C) प्रसंग, यंत्र, बुद्धि (D) हृदय, व्यक्ति, दिन
- प्रश्न 65. नीचे दिए गए वाक्यों को तार्किक क्रम में लगाइए—
 1. वह देश के बच्चों का भविष्य सँवारता है।
 2. उससे भी अधिक आवश्यक है— उन्हें अच्छे मनुष्य बनाना।
 3. उसका काम है— नए ज्ञान को नई पीढ़ी के मन-मस्तिष्क में भरना।
 4. शिक्षक को राष्ट्र-निर्माता कहा जाता है।
 5. आदर्श शिक्षक वही है जो नए ज्ञान को पाने का इच्छुक रहता है।
 (A) 1, 2, 3 4, 5 (B) 4, 1, 3, 2, 5
 (C) 3, 4, 2, 1, 5 (D) 4, 1, 2, 3, 5
- प्रश्न 66. 'उत्तम' शब्द का विपरीतार्थी शब्द है—
 (A) निरुत्तम (B) अधम (C) परोत्तम (D) नीच
- प्रश्न 67. गुरुजी गाड़ी से आए हैं। रेखांकित में कारक है—
 (A) अधिकरण कारक (B) अपादान (C) करण कारक (D) संप्रदान कारक
- प्रश्न 68. पुलिस ने चोर को पीटा। वाक्य में 'पीटा' क्रिया है—
 (A) सकर्मक (B) अकर्मक (C) प्रेरणार्थक (D) द्विकर्मक
- प्रश्न 69. 'पुरस्कार' कहानी के लेखक/लेखिका हैं—
 (A) प्रेमचंद (B) कृष्णा सोबती (C) जयशंकर प्रसाद (D) महादेवी वर्मा
- प्रश्न 70. मिट्टी, सोना, लोहा, दूध, घी और कपड़ा है—
 (A) जातिवाचक संज्ञा (B) समुदायवाचक संज्ञा (C) गुणवाचक संज्ञा (D) द्रव्यवाचक संज्ञा
- प्रश्न 71. निम्नलिखित में से कौन सा शब्द सौन्दर्य का पर्याय नहीं है—
 (A) सुन्दरता (B) सौम्य (C) शोभा (D) सुषमा
- प्रश्न 72. निम्नलिखित में से कौन-सा शब्द 'पाश' का पर्याय नहीं है—
 (A) फंदा (B) जाल (C) बंधन (D) पशु
- प्रश्न 73. 'रूपवान' का स्त्रीलिंग शब्द है—
 (A) रूपमती (B) रूपवानी (C) रूपवती (D) रूपवानिन
- प्रश्न 74. 'जिसका अपकार किया गया हो।' वाक्यांश के लिये एक शब्द है—
 (A) अपकृत (B) उपकृत (C) अपकरण (D) औपकारित

- प्रश्न 75. उसने थोड़ी-सी पढ़ाई क्या कर ली अपने सामने किसी को कुछ समझता ही नहीं। इसी को कहते हैं—
 (A) जिसकी लाठी उसकी भैंस (B) आम के आम गुठलियों के दाम
 (C) हाथ कंगन को आरसी क्या (D) अधजल गगरी छलकत जाय
- प्रश्न 76. 'मैं मज़दूर हूँ' निबंध के लेखक हैं—
 (A) रामचंद्र शुक्ल (B) हजारी प्रसाद द्विवेदी (C) डॉ. भगवत शरण उपाध्याय (D) प्रेमचंद
- प्रश्न 77. 'अंस' का अर्थ है—
 (A) हिस्सा (B) कंधा (C) आँख (D) नमूना
- प्रश्न 78. किस शब्द में एक से अधिक उपसर्ग का प्रयोग हुआ है—
 (A) स्वयंचालित (B) पुनर्जन्म (C) पर्यावरण (D) प्राक्कथन
- प्रश्न 79. को कभी नहीं भूलना चाहिए—
 (A) उपकार (B) चमत्कार (C) जय-जयकार (D) अपकार
- प्रश्न 80. आपका काम अवश्य हो जाएगा क्योंकि आपके अधिकारी की में है।
 (A) नस पहचानना (B) नकेल हाथ में होना (C) पगड़ी हाथ लगना (D) जान छिड़कना
- प्रश्न 81. 'सीता अचानक चली गई।' में क्रिया विशेषण का रूप है—
 (A) स्थान वाचक (B) काल वाचक (C) परिणाम वाचक (D) रीतिवाचक
- प्रश्न 82. 'प्रज्ञा' शब्द का सही अर्थ है—
 (A) प्रतिज्ञा (B) आत्मा (C) बुद्धि (D) मन
- प्रश्न 83. यथाक्रम समस्तपद में समास है—
 (A) बहुव्रीहि समास (B) अव्ययीभाव समास (C) द्विगु समास (D) द्वन्द्व समास
- प्रश्न 84. 'अस कहि कुटिल भई उठि ठाढ़ी। मानहुँ रोष तरंगिनि बाढ़ी।' पद में अलंकार है—
 (A) उपमा अलंकार (B) रूपक अलंकार (C) उत्प्रेक्षा अलंकार (D) अन्योक्ति अलंकार
- प्रश्न 85. वर्तनी की दृष्टि से अशुद्ध शब्द है—
 (A) उज्ज्वल (B) उज्जवल (C) आशीर्वाद (D) अन्यमनस्क
- निम्नलिखित अपठित गद्यांश को पढ़कर दिए गए प्रश्नों के उपयुक्त उत्तर वाले विकल्प का चयन करें।
 साहस की जिंदगी सबसे बड़ी जिंदगी होती है। ऐसी जिंदगी की सबसे बड़ी पहचान यह है कि वह बिल्कुल निडर, बिल्कुल बेखौफ़ होती है। साहसी मनुष्य की पहली पहचान यह है कि वह इस बात

की चिंता नहीं करता कि तमाशा देखने वाले लोग उसके बारे में क्या सोच रहे हैं। जनमत की उपेक्षा करके जीने वाला आदमी दुनिया की असली ताकत होता है और मनुष्यता को प्रकाश भी उसी आदमी से मिलता है। अड़ोस-पड़ोस को देखकर चलना, यह साधारण जीव का काम है। क्रांति करने वाले लोग अपने उद्देश्य की तुलना न तो पड़ोसी के उद्देश्य से करते हैं और न अपनी चाल को ही पड़ोसी की चाल देखकर मद्धिम बनाते हैं।

प्रश्न 86. साहस की ज़िंदगी की पहचान है-

- (A) चिंतामुक्त (B) निडर, बेखौफ (C) ताकतवर (D) क्रांतिकारी

प्रश्न 87. साहसी आदमी से किसे प्रकाश मिलता है-

- (A) पड़ोसी को (B) दुनिया को (C) जनमत को (D) मनुष्यता को

प्रश्न 88. क्रांतिकारी लोग -

- (A) मनमानी करते हैं (B) पड़ोसी की चिंता करते हैं
(C) निडर होकर मनमानी करते हैं (D) निडर होकर अपना लक्ष्य पूरा करते हैं

प्रश्न 89. 'जनमत' में समास है-

- (A) द्विगु (B) द्वन्द्व (C) कर्मधारय (D) तत्पुरुष

प्रश्न 90. गद्यांश का उपयुक्त शीर्षक है-

- (A) साहस ही जीवन (B) साहस की ज़िंदगी
(C) स्वाभिमानी जीवन (D) निडर और बेखौफ ज़िंदगी

प्रश्न निम्नलिखित गद्यांश को पढ़कर नीचे दिए गए प्रश्नों के उपयुक्त उत्तर वाले विकल्प का चयन कीजिए:-

कारलाइल एक राजकुमार था। वह संसार -त्यागी हो गया था। वह कहता था कि जो जी से हँसता है, वह कभी बुरा नहीं होता। जी से हँसो, तुम्हें अच्छा लगेगा। अपने मित्र को हँसाओ, वह अधिक प्रसन्न होगा। शत्रु को हँसाओ, तुम से कम घृणा करेगा। एक अनजान को हँसाओ, तुम पर भरोसा करेगा। उदास को हँसाओ, उसका दुख घटेगा। निराश को हँसाओ, उसकी आशा बढ़ेगी। एक बूढ़े को हँसाओ, वह अपने को जवान समझने लगेगा। एक बालक को हँसाओ, उसके स्वास्थ्य में वृद्धि होगी। वह प्रसन्न और प्यारा बालक बनेगा। पर हमारे जीवन का उद्देश्य केवल हँसी ही नहीं है, हमको बहुत काम करने हैं। तथापि उन कामों में कष्टों में और चिंताओं में एक सुंदर आंतरिक हँसी, बड़ी प्यारी वस्तु भगवान ने दी है।

प्रश्न 91. संसार-त्यागी का आशय है-

- (A) जंगली (B) मृत (C) संन्यासी (D) वनवासी

प्रश्न 92. कौन बुरा नहीं हो सकता -

- (A) भला आदमी (B) संत-महात्मा (C) हँसने वाला (D) जी से हँसने वाला मनुष्य

प्रश्न 93. हँसी मन में कौन-सा भाव जगाती है-

- (A) उपहास (B) प्रसन्नता (C) मनोरंजन (D) उदासी

प्रश्न 94. हँसी किसकी देन है-

- (A) मनुष्य की (B) भगवान की (C) चुटकुलों की (D) परिस्थितियों की

प्रश्न 95. हँसी का बालक पर क्या प्रभाव पड़ता है-

- (A) स्वास्थ्य में वृद्धि (B) प्रसन्नता में वृद्धि (C) सौंदर्य में वृद्धि (D) उपरोक्त सभी

प्रश्न निम्नलिखित अपठित गद्यांश का अध्ययन कर नीचे दिए गए प्रश्नों के सर्वाधिक उपयुक्त उत्तर का चयन करें-

बौद्धकाल तीन युगों में बाँटा जा सकता है। पहला युग गौतमबुद्ध के समय से शुरू होता है और पाँच सौ वर्ष तक रहता है। इस युग के बौद्ध साधु चरित्र और सच्चे त्यागी होते थे। दूसरा युग ईसवी सन् के साथ प्रारंभ होता है और ईसा की छठी शताब्दी में समाप्त हो जाता है। इस युग में बौद्धों ने पहले युग के गुण अक्षुण्ण रखने के साथ साथ शिल्पकला में भी अच्छी उन्नति की थी। सातवीं शताब्दी से तीसरा युग लगता है उसे तान्त्रिक युग भी कह सकते हैं। उसमें बौद्ध महन्तों के चरित्र बिगड़ने लगे थे और पहले की जैसी त्यागशीलता जाती रही थी परन्तु उन लोगों ने आयुर्वेद और रसायन शास्त्र में खूब उन्नति की थी। उनमें से प्रत्येक युग के विशेषत्व की छाप उस समय के विश्वविद्यालयों में अच्छी तरह पाई जाती है।

प्रश्न 96. शिल्प कला की अच्छी उन्नति हुई -

- (A) बौद्धकाल के द्वितीय युग में (B) बौद्धकाल के प्रथम युग में
(C) बौद्धकाल के तृतीय युग में (D) बौद्धों के आधुनिक युग में

प्रश्न 97. विश्वविद्यालय में समास है-

- (A) अव्ययीभाव समास (B) तत्पुरुष समास (C) द्वन्द्व समास (D) बहुव्रीहि समास

प्रश्न 98. 'शताब्दी' कहलाता है-

- (A) दस वर्ष का समूह (B) हजार वर्ष का समूह
(C) सत्य शब्दों का समूह (D) सौ वर्ष का समूह

प्रश्न 99. उपसर्ग एवं प्रत्यय दोनों का प्रयोग हुआ है:-

- (A) मातृत्व में (B) विशेषत्व में (C) स्नेहत्व में (D) अपनत्व में

प्रश्न 100. 'उन्नति' शब्द है -

- (A) विशेषण (B) क्रिया (C) संज्ञा (D) सर्वनाम

LANGUAGE COMPREHENSION TEST (ENGLISH)

Instructions for Q.No.51,52 & 53

The following five sentences come from a paragraph/dialogue. The first and last sentences are given; choose the order in which the three sentences (PQR) should appear to complete the paragraph/dialogue.

Q.No. 51

- S1. Marie Curie was born in Poland on November 7, 1867.
 S2.
 S3.
 S4.
 S5. In 1911, Marie Curie was awarded the Nobel Prize for Chemistry for the discovery of Radium and Polonium.
 P. She and her husband were awarded the Nobel Prize for Physics in 1903.
 Q. She got married to Pierre Curie in 1895.
 R. Marie and her husband discovered the radioactive material in 1902.

Choose from the options below-

- (A) POR (B) QRP (C) RQP (D) RQP

Q.No. 52

- S1. Mother- Where are you going, Rahul?
 S2.
 S3.
 S4.
 S5. Mother-When will you be back from Rahim's house?
 P. Rahul- Yes, Mom I have.
 Q. Mother- Have you finished your home work?
 R. Rahul- I am going to Rahim's house, Mom.

Choose from the options below-

- (A) PQR (B) QPR (C) RQP (D) PRQ

Q.No. 53

- S1. Boil the water first.
 S2.
 S3.
 S4.
 S5. Lastly add sugar to taste.
 P. Add tea leaves to the boiling water.
 Q. Filter the decoction.
 R. Then add milk to the decoction.

Choose from the options below-

- (A) RPQ (B) QPR (C) POR (D) PRQ

Instructions for Q.No. 54 to Q. No. 56

The following questions have the second sentence missing. Choose the appropriate sentence from the given options to complete it.

Q.No. 54

1. Kiran loves to colour.
 2.
 3. The walls of her room are filled with pictures.
 (A) Kiran lives in Australia with her grandmother.
 (B) Her dad lives in Mumbai and works for a Multinational company.
 (C) Every time Kiran finishes a picture, she tapes it on her wall.
 (D) Kiran is fond of dancing and has many friends.

Q.No. 55

1. Get a small shovel to dig some holes.
 2.
 3. Water them regularly and wait for them to grow.
 (A) Bring the seeds home and decide where to plant them.
 (B) Pick the flowers and put them in a vase.
 (C) Go to the store to buy some flower seeds.
 (D) Put seeds in the hole and cover with dirt.

Q.No. 56

1. Put the letter into an envelope when you have completed.
 2.
 3. Put the stamp on the envelope and mail it.
 (A) Get a paper, a pen or pencil, an envelope, and a stamp.
 (B) Take some paper and make an envelope.
 (C) Go to post office and buy an envelope.
 (D) Write the address on the envelope of the person you are sending it to.

Instructions for Q.No-57 to Q.No.61

Choose the word which best fills the blank from the four options given below:

57. She carefully the tea into the cups.
 (A) put (B) kept (C) poured (D) placed
58. The spread around the stadium included numerous paper cups, tickets stubs and wrappers.
 (A) shops (B) paper (C) dustbin (D) debris
59. You are too close friends to such small issues.
 (A) play (B) quarrel (C) read (D) speak
60. More food was needed for the flood
 (A) victims (B) crowd (C) people (D) mob
61. I with you. This movie is really boring! Let's change the channel.
 (A) accord (B) agree (C) meet (D) join

Instructions for Q.No-62 to Q.No.66

Choose the correct meanings for the given idioms /phrases.

62. Talk of the town:

- (A) another name of the town
- (B) the subject of much discussion in the town
- (C) the way people talk in the town
- (D) a place where people assemble and talk in the town

63. Monkey business:

- (A) an intelligent behaviour
- (B) a mischievous behaviour
- (C) an illegal behaviour
- (D) a focussed behaviour

64. Make big:

- (A) to become at
- (B) to be angry
- (C) to be famous
- (D) to be successful

65. By hook or crook:

- (A) to get adjusted in every situation
- (B) to do something by all means
- (C) to understand everything well
- (D) to hang on something

66. To keeps one's temper:

- (A) to become hungry
- (B) to stay calm
- (C) to preserve ones energy
- (D) to be aloof from

Instructions for Q.No. 67 to Q.No.70

Find out the alternatives which are most opposite in meanings to the words given.

67. Dispensable:

- (A) dependable
- (B) superfluous
- (C) essential
- (D) outdated

68. Overwhelmed:

- (A) unhappy
- (B) complete
- (C) mouthful
- (D) annoyed

69. Agile:

- (A) feeble
- (B) swift
- (C) slow
- (D) lively

70. Preface

- (A) foreword
- (B) forward
- (C) Introduction
- (D) conclusion

Instructions for Q.No.71 to 73

Select the most appropriate options to fill in the blank from the following alternatives given below:

71. done the homework?

- (A) Has you
- (B) Have you
- (C) Will he
- (D) Should they

72. He would starve to death rather than for a loan.

- (A) have ask
- (B) to have asked
- (C) to ask
- (D) ask

73. Compare the answers your partner.

- (A) by
- (B) of
- (C) with
- (D) to

Instructions for Q.No. 74 to 76

Choose the alternative which can be substituted for the sentence:

74. A disease that spreads over a large area :

- (A) Epidemic
- (B) Academic
- (C) incorrigible
- (D) invincible

75. That which cannot be avoided:

- (A) incomparable
- (B) Indisputable
- (C) irreparable
- (D) Inevitable

76. Government by rich:

- (A) aristocracy
- (B) oligarchy
- (C) plutocracy
- (D) pantisocracy

Instructions for Q.No. 77 to Q.No.85

In the following passage there are some numbered blanks. Fill in the blanks by selecting the most appropriate word from the options:

When Ramesh got off the train 77 walked out of the left gate 78 the railway station. The bus stop was 79 outside the left gate. He waited 80 bus No. 64 to Raweli arrived. When he bought 81 ticket he told the conductor 82 he would get off at Lal Bazar. He asked the conductor 83 long it would take to reach there. The conductor 84, "Half an hour sir". He was exited 85 reach there as his friend Rehan was waiting there to meet him.

77. (A) she (B) he (C) it (D) they

78. (A) in (B) on (C) of (D) with

79. (A) just (B) between (C) on (D) by

80. (A) for (B) till (C) to (D) near

81. (A) my (B) our (C) her (D) his

82. (A) which (B) and (C) that (D) if

83. (A) what (B) how (C) why (D) when

84. (A) opened (B) say (C) said (D) tell

85. (A) for (B) to (C) in (D) by

Instructions for Q.No.86 to Q.No.90

Read the passage and choose the best alternative for the questions given below-

A material is what something is made of. There are five basic materials. Most things are made with these materials. They are metal, glass, wood, cloth and plastic. There are some other materials also. But they are not used as much as these five materials.

Let's talk about metal first. Metal is very heavy. And it is very hard and strong. It usually feels cool if you touch it. We use metal to make lots of things. We use it for forks and knives. We use it for keys. We use it for cars. We use it for these things because it is very strong.

Next, let's talk about glass. Glass is very smooth. It feels cool to touch. It is not as heavy as metal. It is hard. But it is not strong. It breaks very easily. Then why do we use it? We use it because it is clear. You can see through glass. That's why we use it for windows.

Now, let's talk about wood. Wood is lighter than metal and glass. It is not as strong as metal. But it is much stronger than glass. We use wood to make lots of things. Things made from wood are usually light and hard and strong. Chairs and tables are made from wood. Pencils are made from wood.

Now let's talk about cloth. Cloth is very light. It is much lighter than wood. And it is very soft. We use cloth to make lots of things. For example, it is used to make clothing. And it is used to make blankets.

Last, let's talk about plastic. Plastic is also very light. But it is different from cloth. Sometimes it is soft. And sometimes it is hard. Plastic can be used to make thin plastic bags. These are light, soft, and strong. But plastic can also be used to make helmets. These are light, hard, and strong. A helmet and a bag seem different but they are both made from plastic.

86. Which sentence from the passage best describes the main idea?
 (A) "We use cloth to make lots of things." (B) "There are five basic materials
 (C) "Metal is very heavy." (D) "A helmet and a bag seem different."
87. According to the passage, which of these things is a material?
 (A) chairs (B) clothing (C) windows (D) wood
88. According to the passage, how does glass feel?
 (A) sharp and heavy (B) warm and soft (C) light and hard (D) smooth and cool
89. In paragraph 4, the passage says, "Wood is lighter than metal and glass." What is the main purpose of this sentence?
 (A) to explain something (B) to recommend something
 (C) to demonstrate something (D) to compare something
90. Which material would you use if you wanted to make something that was strong and very light?
 (A) glass (B) plastic (C) metal (D) wood

Instructions for Q.No.91 to Q.No.100

Read the passage and choose the best alternative for the questions given below-

Did you know that some people don't do their reading assignments? It's shocking, but it's true. Some students don't even read short texts that they are assigned in class. There are many reasons for this. They may be distracted or bored. They may be unwilling to focus. They may be unconfident readers. Whatever the reason, it has to stop today. Here's why.

Reading stimulates your mind. It is like a workout for your brain. When people get old, their muscles begin to deteriorate. They get weaker and their strength leaves them. Exercise can prevent this loss. The same thing happens to people's brains when they get older. Brain power and speed decline with age. Reading strengthens your brain and prevents these declines.

You can benefit from reading in the near-term too. Reading provides knowledge. Knowledge is power. Therefore, reading can make you a more powerful person. You can learn to do new things by reading. Do you want to make video games? Do you want to design clothing? Reading can teach you all this and more. But you have to get good at reading, and the only way to get good at something is to practice.

Read everything that you can at school, regardless of whether you find it interesting. Reading expands your vocabulary. Even a "boring" text can teach you new words. Having a larger vocabulary will help you better express yourself. You will be able to speak, write, and think more intelligently. What's boring about that?

Do not just discard a text because it is unfamiliar to you. Each time you read, you are exposed to new ideas and perspectives. Reading can change the way that you understand the world. It can give you a broader perspective on things. It can make you worldlier. You can learn how people live in faraway places. You can learn about cultures different from your own. Reading is good for your state of mind. It has a calming effect. It can lower your stress levels and help you relax. You can escape from your troubles for a moment when you read, and it's a positive escape. The benefits of reading far outweigh those of acting. So do yourself a favor: the next time you get a reading assignment, take as much as you can from it. Squeeze it for every drop of knowledge that it contains. Then move on to the next one.

91. Which best expresses the main idea of the second paragraph?
 (A) Reading is exciting. (B) Age affects the body in many ways.
 (C) Reading strengthens your mind. (D) Working out keeps your body in shape.
92. Why does the author think that you should read books that are boring?
 (A) You will eventually grow to love them if you read them enough.
 (B) You will get better grades in reading class.
 (C) You will make your teacher very happy.
 (D) You will learn new words.
93. Which best expresses the main idea of the third paragraph?
 (A) Reading can benefit you.
 (B) You can learn amazing things and become a better person by reading.
 (C) You can learn to program video games or design clothing by reading.
 (D) Knowledge is power.
94. Which is **not** a reason given by the author why students fail to complete reading assignments?
 (A) Students may be bored.
 (B) Students may be tired.
 (C) Students may be unwilling to focus.
 (D) Students may be distracted.
95. Which best expresses the author's main purpose in writing this text?
 (A) He is entertaining readers with facts about the mind and body.
 (B) He is teaching people how to become better readers.
 (C) He is explaining why people don't do their reading work.
 (D) He is trying to persuade students to do their reading work
96. Which best describes the author's tone in the first three sentences?
 (A) Surprised (B) Sarcastic (C) Informative (D) Irate
97. Which of the following is **not** one of the author's main points?
 (A) Reading broadens your perspective and makes you a better person.
 (B) Reading helps you perform on tests and get into selective schools.
 (C) Reading is a relaxing activity with positive mental side effects.
 (D) Reading keeps your mind in shape and prevents losses due to age.
98. Why does the author believe that reading is good for your mind state?
 (A) It has a calming effect. (B) It can lower your stress levels.
 (C) It can help you relax. (D) All of these
99. Which is **not** one of the author's arguments in the fifth paragraph?
 (A) Reading gives you a broader perspective on the world.
 (B) Reading helps prepare you for your job in the real world
 (C) Reading teaches you about distant lands and cultures
 (D) Reading changes the way that you understand the world.
100. Which title best expresses the main idea of this text?
 (A) Reading: Improves Your Vocabulary (B) Reading: The Key to speak better
 (C) Reading: Its Importance (D) Reading: Improves Your Writing Skills